




Adı Soyadı : .....

Numarası : .....

### Konu: Bir Çokluğun Belirtilen Bir Basit Kesir Kadarını Belirleme Etkinliği 3


Aşağıda belirtilen varlıkların basit kesir kadarını bulunuz.



12 tane kelebeğin  $\frac{1}{4}$  'i kaç kelebek eder?  
.....



21 tane arının  $\frac{2}{7}$  'si kaç arı eder?  
.....

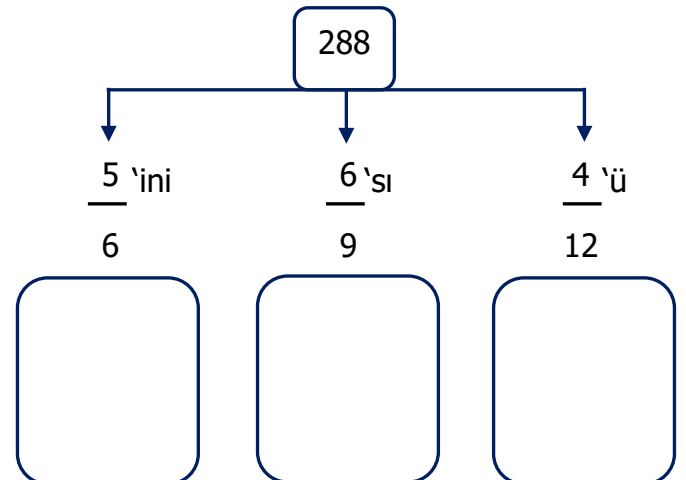
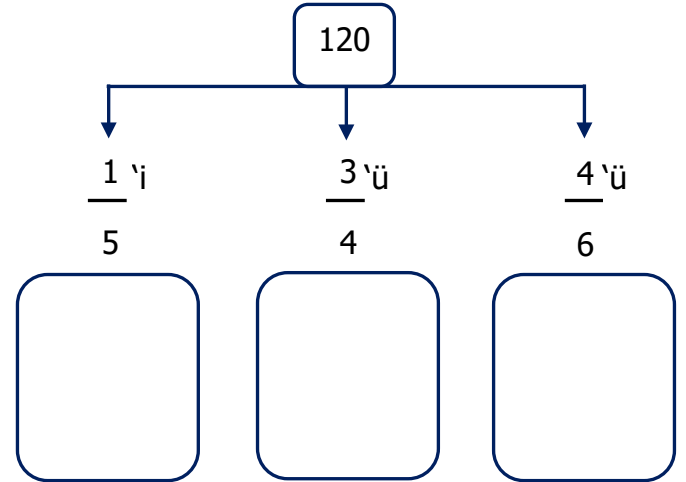
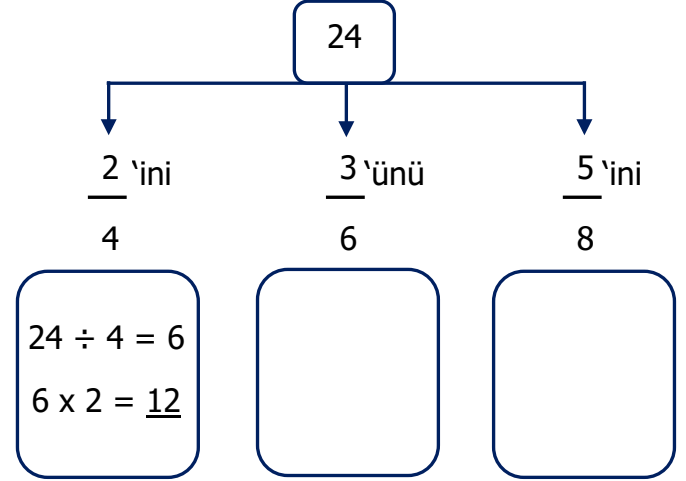


36 tane papatyanın  $\frac{3}{6}$  'ü kaç çiçek eder?  
.....



27 tane cevizin  $\frac{4}{9}$  'i kaç ceviz eder?  
.....

Aşağıda verilen sayıların belirtilen kesir kadarını örnekteki gibi bulalım.



Aşağıda verilen çokluklardan istenilen kesir kadarını bulunuz.

Bir manav 48 tane limonun  $\frac{2}{6}$ 'sini sattı.

Manav kaç tane limon satmıştır?

Çözüm:

Bir oyuncak fabrikasında üretilen 288 adet

oyuncağın  $\frac{5}{9}$ 'i satılmıştır. Toplam kaç

oyuncak satılmıştır?

Çözüm:

Okulumuzda 320 öğrencinin  $\frac{3}{8}$ 'ü

kızıdır. Okulumuzda kaç kız öğrenci vardır?

Çözüm:

Yolcu otobüsü 650 kilometreli yolun  $\frac{2}{5}$ 'sini

gitti. Otobüs kaç km yol gitmiştir?

Çözüm:

Bahçemizdeki 124 ağacın  $\frac{2}{4}$ 'si elmadır.

Bahçemizde kaç tane elma ağacı vardır?

Çözüm:

Ali, 252 sayfalık kitabın  $\frac{3}{6}$ 'ünü okudu. Ali

kaç sayfa kitap okumuştur?

Çözüm:

Yaşar, 420 TL'nin  $\frac{5}{7}$ 'ini harcadı. Yaşar

kaç TL harcamıştır?

Bir çiftlikteki 720 hayvanın  $\frac{2}{5}$ 'si inektir.

Bu çiftlikteki ineklerin sayısı kaçtır?

Çözüm:

Aşağıda verilen çokluklardan istenilen kesir kadarını bulunuz.

Bir fırındaki 720 ekmeğin  $\frac{2}{10}$  'sini satıldı.

Geriye kaç ekmek kaldı?

Çözüm:

Kalan:

Manavdaki 72 kg elmanın  $\frac{4}{9}$  'ü satılıyor.

Geriye kaç kg elma kalmıştır?

Çözüm:

Kalan:

Bir sinema salonundaki 344 seyircinin  $\frac{3}{8}$  'ü bayandır. Buna göre erkeklerin sayısı kaçtır?

Çözüm:

Kalan:

Ayşe, 138 sayfalık hikaye kitabının  $\frac{4}{6}$  'ünü okudu. Geriye okuması gereken kaç sayfası kaldı?

Çözüm:

Kalan:

Babam cebindeki 600 TL'nin  $\frac{2}{5}$  'sini anneme verdi. Babamın geriye kaç TL'si kaldı?

Çözüm:

Kalan:

Bir çiftçi tarladan topladığı 735 kg patatesin  $\frac{2}{7}$  'sini markete satıyor. Geriye kaç kg patatesi kalmıştır?

Çözüm:

Kalan:

Bir simitçi 292 simitin  $\frac{3}{4}$  'ünü satmıştır. Geriye kaç tane simiti kalmıştır?

Çözüm:

Kalan:

Emre 256 tane misketin  $\frac{3}{8}$  'ini Mert'e verdi. Emre'nin kaç misketi kalmıştır?

Çözüm:

Kalan: